

Prezenta lucrare conține ____ pagini

**SIMULAREA EXAMENULUI DE
EVALUARE NAȚIONALĂ PENTRU
ABSOLVENȚII CLASEI a VIII-a**

Anul școlar 2022-2023

Matematică

Numele:
.....
Inițiala prenumelui tatălui:
Prenumele:
.....
Școala de proveniență:
.....
Centrul de examen:
Localitatea:
Județul:

Nume și prenume asistent	Semnătura

A	COMISIA DE EVALUARE	NOTA (CIFRE ȘI LITERE)	NUMELE ȘI PRENUMELE PROFESORULUI	SEMNĂTURA
	EVALUATOR I			
	EVALUATOR II			
	EVALUATOR III			
	EVALUATOR IV			
	NOTA FINALĂ			

B	COMISIA DE EVALUARE	NOTA (CIFRE ȘI LITERE)	NUMELE ȘI PRENUMELE PROFESORULUI	SEMNĂTURA
	EVALUATOR I			
	EVALUATOR II			
	EVALUATOR III			
	EVALUATOR IV			
	NOTA FINALĂ			

C	COMISIA DE EVALUARE	NOTA (CIFRE ȘI LITERE)	NUMELE ȘI PRENUMELE PROFESORULUI	SEMNĂTURA
	EVALUATOR I			
	EVALUATOR II			
	EVALUATOR III			
	EVALUATOR IV			
	NOTA FINALĂ			

- Toate subiectele sunt obligatorii.
- Se acordă zece puncte din oficiu.
- Timpul de lucru efectiv este de două ore.

SUBIECTUL I

Încercuiește litera corespunzătoare răspunsului corect.

(30 de puncte)

5p	1. Numărul 242 este multiplu al numărului: a) 7 b) 11 c) 12 d) 17
5p	2. Valoarea lui x care verifică egalitatea $\frac{x}{30} = \frac{7}{15}$ este egală cu: a) $\frac{7}{3}$ b) 8 c) 14 d) 16
5p	3. Opusul numărului $a = \left(\frac{1}{2} - \frac{1}{3}\right) : \frac{1}{36}$ este: a) -6 b) -3 c) 3 d) 6
5p	4. Cel mai mare dintre numerele raționale $2,(4)$; $2,4(2)$; $2,22$; $2,(42)$ este: a) $2,4(2)$ b) $2,(4)$ c) $2,(42)$ d) $2,22$

5p	<p>5. Dacă $a = \sqrt{5} + \sqrt{3}$ și $b = \sqrt{15}$, atunci $a^2 - 2b + 1$ este egal cu:</p> <p>a) $\sqrt{15}$ b) $9 - 2\sqrt{15}$ c) 8 d) 9</p>																
5p	<p>6. În tabelul următor sunt înregistrate temperaturile medii zilnice dintr-o săptămână.</p> <table border="1" style="margin-left: auto; margin-right: auto;"> <thead> <tr> <th>Ziua</th> <th>L</th> <th>M</th> <th>M</th> <th>J</th> <th>V</th> <th>S</th> <th>D</th> </tr> </thead> <tbody> <tr> <td>Temperatura</td> <td>-4°C</td> <td>-3°C</td> <td>-2°C</td> <td>1°C</td> <td>$x^{\circ}\text{C}$</td> <td>1°C</td> <td>2°C</td> </tr> </tbody> </table> <p>Dacă temperatura medie din aceea săptămână a fost -1°C, atunci x este egal cu:</p> <p>a) -2 b) 0 c) 1 d) 3</p>	Ziua	L	M	M	J	V	S	D	Temperatura	-4°C	-3°C	-2°C	1°C	$x^{\circ}\text{C}$	1°C	2°C
Ziua	L	M	M	J	V	S	D										
Temperatura	-4°C	-3°C	-2°C	1°C	$x^{\circ}\text{C}$	1°C	2°C										

SUBIECTUL al II-lea

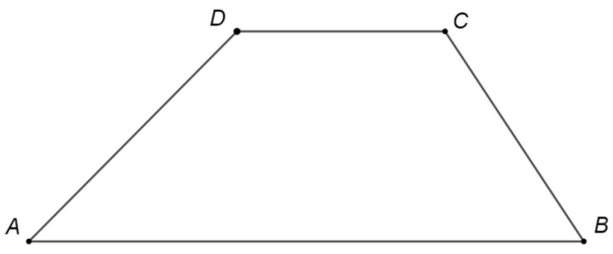
Încercuiește litera corespunzătoare răspunsului corect.

(30 de puncte)

5p	<p>1. În figura alăturată, punctul M este mijlocul segmentului AB, N este mijlocul segmentului BC, iar C este simetricul punctului A față de punctul B. Valoarea raportului $\frac{AN}{MN}$ este:</p> <p>a) $\frac{2}{3}$ b) 1 c) $\frac{4}{3}$ d) $\frac{3}{2}$</p>
5p	<p>2. În figura alăturată, unghiurile ACD și DCB sunt adiacente suplementare. Măsura unghiului format de bisectoarele unghiurilor ACD și DCB este :</p> <p>a) 90° b) 100° c) 120° d) 150°</p>

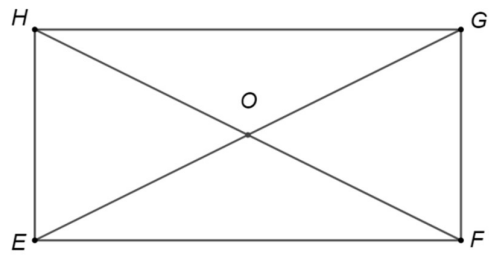
5p 3. Figura alăturată reprezintă schița unui teren în formă de trapez $ABCD$ cu aria de 144 m^2 și lungimea liniei mijlocii de 36 m . Distanța dintre laturile AB și DC este egală cu:

a) 2 m
 b) 4 m
 c) 8 m
 d) 12 m



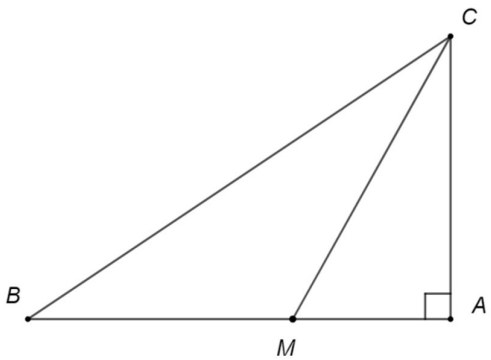
5p 4. Dreptunghiul $EFGH$ din figura alăturată are lungimea $EF = 15 \text{ cm}$ și lățimea $FG = 5\sqrt{3} \text{ cm}$. Dacă $HF \cap EG = \{O\}$, măsura unghiului GOF este :

a) 60°
 b) 90°
 c) 120°
 d) 150°



5p 5. În figura alăturată ABC este un triunghi dreptunghic în A cu măsura unghiului B de 30° . Dacă lungimea bisectoarei CM este egală cu 10 cm , atunci lungimea catetei AB este egală cu:

a) 8 cm
 b) 10 cm
 c) 15 cm
 d) 16 cm



5p 6. În figura alăturată $ABCD$ este un tetraedru regulat cu aria feței ABC egală cu $9\sqrt{3} \text{ dm}^2$. Suma lungimilor tuturor muchiilor tetraedrului este egală cu:

a) 18 dm
 b) 36 dm
 c) 72 dm
 d) 81 dm

